



Photo : Isabelle Barbador © Région Nord Pas de Calais - Picardie - Inventaire général

Visite jeu découverte du quartier Saint-Maurice

À l'aide de ce plan et d'un document téléchargé sur votre appareil mobile, partez à la découverte d'un ancien faubourg d'Amiens. Du 18^e au 20^e siècle, de petites industries, dont de nombreuses teintureriers, ont fait vivre le quartier. Nous vous proposons une balade et un jeu pour redécouvrir les traces, parfois discrètes, qu'elles ont laissées.

À vous de jouer !

Avant de partir,







- téléchargez le document en .pdf sur <https://inventaire.picardie.fr> ou grâce au QRcode en pages intérieures,
- suivez le parcours indiqué sur le plan joint et découvrez l'histoire du quartier au fil de votre promenade,
- remplissez le bulletin au dos du document et vérifiez vos réponses sur notre site internet.

L'Inventaire : recenser, étudier, faire connaître

Retrouvez-nous sur <https://inventaire.picardie.fr>



Région
Nord Pas de Calais - Picardie

-  un faubourg de craie et d'eau
-  ateliers, fabriques et usines
-  habiter
-  un jardin pour l'étude
-  la petite île Saint-Maurice
-  passage conseillé pour les personnes à mobilité réduite

SOURCES :

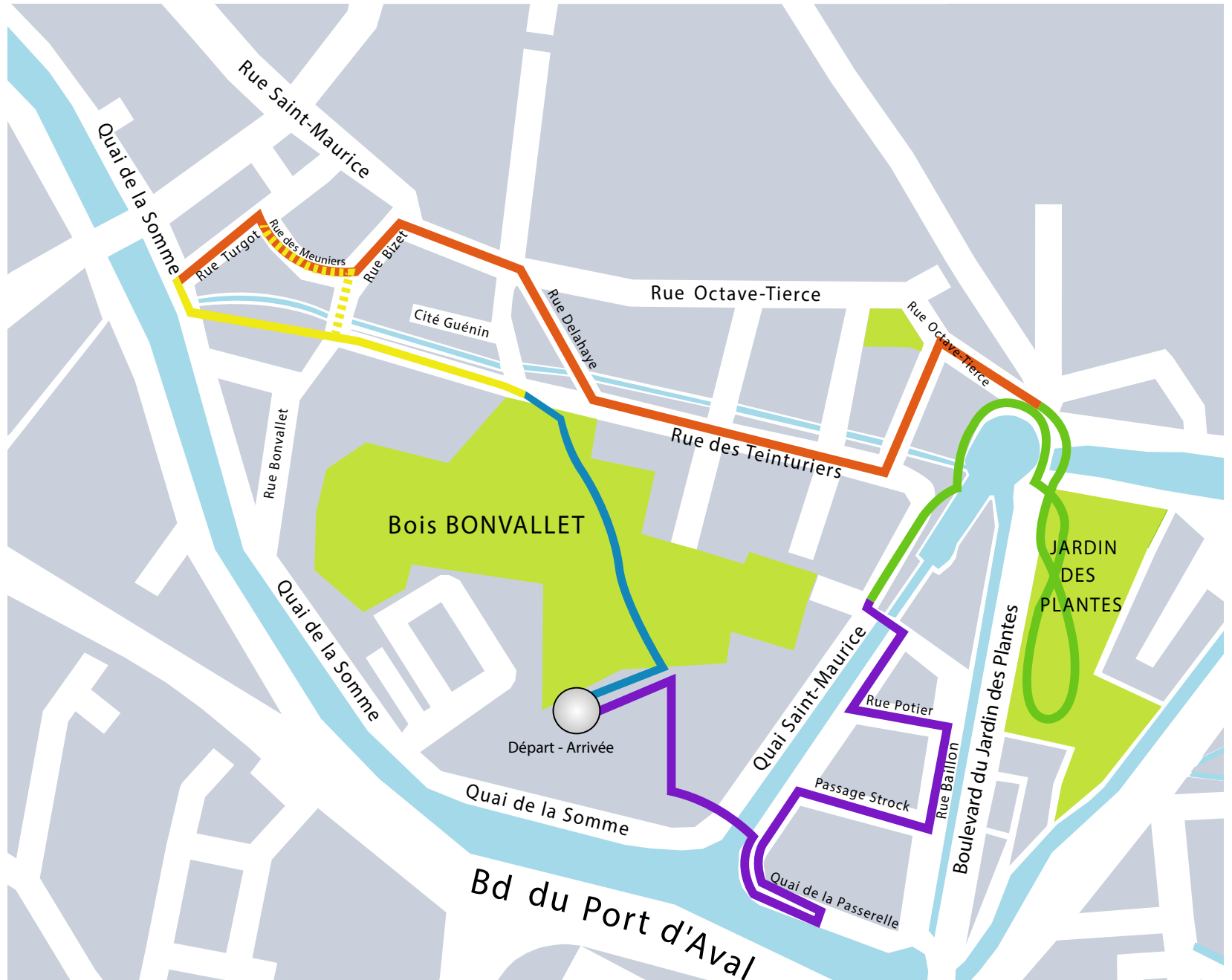
Fond de plan : Plan schématique des rues - Service Données Cartographiques - juin 2014

Réalisation : Service Données Cartographiques - Cellule S.I.G. - mars 2015

Logiciel utilisé : ADOBE ILLUSTRATOR CS3 Fichier: Saint_maurice_rencontre numérique_plan schématique.ai



Téléchargez le document numérique de visite sur votre appareil mobile



1 - À quoi a servi ce qu'on appelle aujourd'hui le bois Bonvallet ? (deux activités)

2 - Quelle date porte l'ancienne école de filles ?

3 - Quel a été le rôle de M. Guérard au 17^e siècle ?

4 - Quel est le point commun entre les maisons situées 30, rue Delahaye, 43, quai Saint-Maurice, 27, rue Baillon et 19, passage Strock ?

5 - Donnez le nom (courant ou latin) d'une plante produisant un colorant bleu et présentée au Jardin des plantes parmi les plantes utiles à l'industrie :

6 - Quelle est la fonction de la maison située 33, quai Saint-Maurice ?

7 - À quelle adresse peut-on voir ce motif ? (*voir photo 7*)

8 - Qu'y a-t-il aujourd'hui à la place de l'ancienne usine à gaz ? (*voir photo 8*)

7



8



Pour les réponses, rendez-vous
sur <https://inventaire.picardie.fr>